

# Byg dine egne ligninger

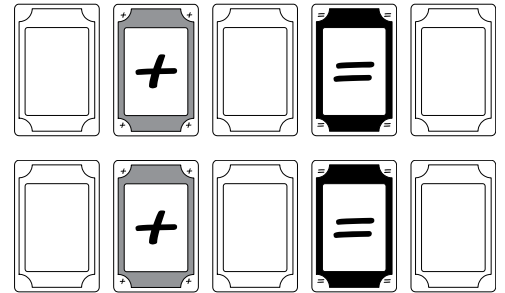
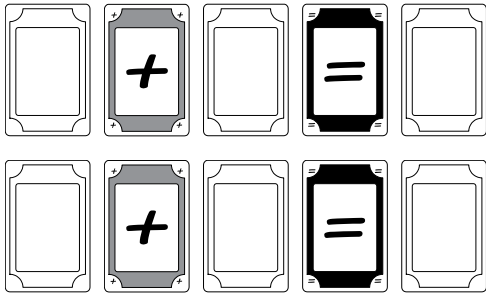

Til hver opgaveløsning må hvert ciffer kun bruges en gang, og de 4 operationskort må også kun bruges en gang

## Opgave 1

Vælg 3 cifferkort og additionskortet.

Få nu ligningen til at gå op.

Find mindst 4 løsninger


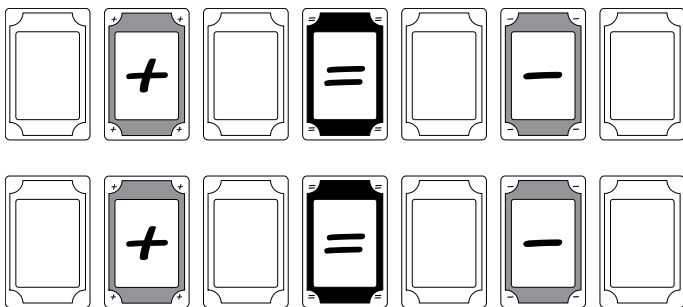
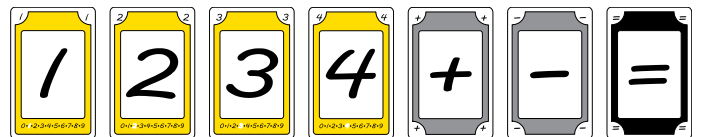


## Opgave 2

Vælg 4 cifferkort,  
samt additions- og subtraktionskortet.

Få nu ligningen til at gå op.

Find mindst 3 løsninger

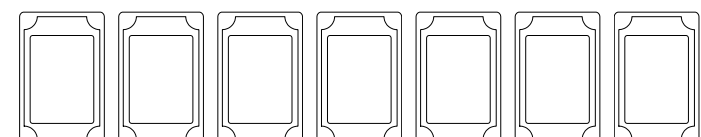




## Opgave 3

Vælg 5 cifferkort,  
samt additions- og subtraktionskortet.

Få nu ligningen til at gå op.

Find mindst 3 løsninger





### Opgave 4

Vælg 6 cifferkort, samt additions- og subtraktionskortet og enten multiplikation- og divisionskortet.

Få nu ligningen til at gå op.

Find mindst 3 løsninger



### Opgave 5

Vælg alle cifferkortene, samt operationskortene

Få nu ligningen til at gå op.

Hvor mange løsninger kan du finde?

